

EXPLOITATION PÉDAGOGIQUE

La cartographie, une source pour l'historien

Les cartes de l'Alsace au temps des ruptures



Problématique

La cartographie est-elle un marqueur des ruptures ?

DOC 5-1

Les frontières de Lorraine

1650, 51,5 x 90 cm, ADBR 1 Fi 12/1.



• Quand cette carte a-t-elle été réalisée ? Sous le règne de quel roi de France ?

.....

• A la suite de quel événement majeur dans l'histoire de l'Alsace ?

.....

• Quelle rupture marque ce document historique ?

.....

.....

DOC 5-2

Extrait d'un rapport sur le projet d'établissement d'une ligne ferroviaire directe de Colmar à Saint-Dié

1919, ADBR 121 AL 44



• Quelle est la date du rapport ? Quel événement majeur vient de prendre fin ?

.....

.....

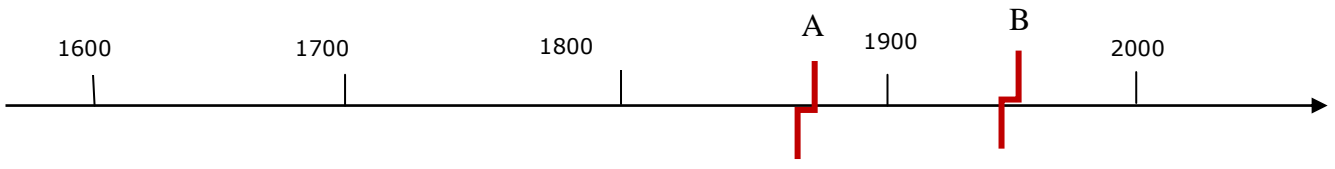
• En quoi consiste le projet présenté sur cette carte ? Quel lien peut-on établir avec les événements ?




.....

.....

► Utiliser les informations extraites des documents pour se repérer dans le temps

- Tracez en bleu sur l'axe les périodes qui correspondent à l'histoire « française » de la région
- Tracez en vert sur l'axe les périodes qui correspondent à l'histoire « allemande » de la région
- Placez les deux ruptures liées aux documents (symbole indiqué en légende) sur l'axe
- Placez au-dessous de l'axe l'événement lié à chaque rupture ainsi que sa date.
- Placez sur l'axe les deux autres ruptures indiquées par A et B



-  Période
-  Période
-  Rupture